

## DUYU ORGANLARIMIZI TANIYALIM



Cümleleri aşağıdaki sözcüklerden uygun olanları noktalı yere yazarak tamamlayınız.

İşitme

Dokunma

Görme

Koklama

Tatma

- 1 ..... duyu organımız gözdür.
- 2 ..... duyu organımız kulaktır.
- 3 ..... duyu organımız burundur.
- 4 ..... duyu organımız deridir.
- 5 ..... duyu organımız dildir.

Görseli verilen duyu organlarını ilgili cümlelerle eşleştiriniz.



Bahçeyi gül kokusu sarmıştı.



Koyunun tüyleri çok yumuşaktı.



Çok tatlı olduğu için kurabiyeyi yiyemedim.



Denizin rengi masmaviydi.



Patlamayı duyunca dışarı koştuk.

## 1. Duyularımızı işaretleyiniz.

<input type="checkbox"/>	Yürüme	<input type="checkbox"/>	Dokunma
<input type="checkbox"/>	Görme	<input type="checkbox"/>	Tatma
<input type="checkbox"/>	İşitme	<input type="checkbox"/>	Koklama
<input type="checkbox"/>	Yeme	<input type="checkbox"/>	Koşma

## 2. Uygun ifadeleri eşleştirerek cümleleri tamamlayınız.

Bir meyvenin tatlı mı ekşimi olduğunu anlamak için	tatma duyumuzu kullanırız.
Yürürken arkamızdan araba gelip gelmediğini anlamak için	işitme duyumuzu kullanırız.
Bir çiçeğin güzel kokup kokmadığını anlamak için	dokunma duyumuzu kullanırız.
Çaydanlığın sıcak ya da soğuk olduğunu anlamak için	koklama duyumuzu kullanırız.
	görme duyumuzu kullanırız.

## 3. Duyuları ilgili organla eşleştiriniz

Koklama	Burun
Görme	Göz
Tatma	Dil
Dokunma	Deri
İşitme	Kulak



Bahçeden bir havlama sesi geliyordu. Pencereyi açıp baktım ve yavru bir köpek gördüm.

1. Seçil anlattığı olayda hangi duyu organlarını kullanmıştır?

A) Koklama – İşitme

B) İşitme – Görme

C) Görme – Dokunma

2. Elif Hanım, görseldeki davranışında hangi duyusunu kullanıyor?

A) İşitme

B) Tatma

C) Koklama



3. Görsellerden hangisi bir duyu organımıza ait **değildir**?

A)



B)



C)



4.

Burun

Deri

Göz

1 Görme

2 Koklama

3 Dokunma

Organlarla duyuların doğru eşleştirmesi hangi seçenekte verilmiştir?

A)

Burun	2
Deri	3
Göz	1

B)

Burun	2
Deri	1
Göz	3

C)

Burun	3
Deri	2
Göz	1

5. Görselde kaç numarayla gösterilen yapılar duyu oranımızdır?

A) 1, 4, 6 ve 7

B) 3, 4, 5 ve 7

C) 2, 3, 5 ve 6



- 6.
- |   |       |  |                    |
|---|-------|--|--------------------|
| 1 | Dil   |  | duyu organımızdır. |
| 2 | Burun |  | duyu organımızdır. |
| 3 | Deri  |  | duyu organımızdır. |
| 4 | Kulak |  | duyu organımızdır. |




Cümlelerin doğru olması için boş kutulara sırasıyla hangi seçenekteki ifadeler yazılmalıdır?

- A)
- |   |         |
|---|---------|
| 1 | koklama |
| 2 | tatma   |
| 3 | dokunma |
| 4 | işitme  |

- B)
- |   |         |
|---|---------|
| 1 | tatma   |
| 2 | dokunma |
| 3 | koklama |
| 4 | görme   |


- C)
- |   |         |
|---|---------|
| 1 | tatma   |
| 2 | koklama |
| 3 | dokunma |
| 4 | işitme  |

7. Öğrencilerden hangisi duyularımızla ilgili **yanlış** bir bilgi vermiştir?

- A)  Çevremizde olup bitenleri algılamamızı sağlar.
- B)  Öğrenmemizi olumsuz yönde etkiler.
- C)  Tehlikeli olabilecek durumları anlamamızı sağlar.

8. Sevgi, listesine hangi seçenekteki organı eklemelidir?


- A) El  
B) Ağız  
C) Göz


 Duyu organlarımızla ilgili bir liste yaptım.

Dil  
Kulak  
Deri  
Burun

9. Mert, köpeğiyle ilgili aşağıdaki cümleyi kurarken hangi duyusundan faydalanmıştır?

- A) Koklama  
B) Tatma  
C) Dokunma

 Tüyleri çok yumuşak...

10.  Duyu organlarımızla ilgili bir sunu hazırlıyorum.

Mert, hazırladığı sunuda hangi görseli kullanmaz?

